

IES INCA

Joan Miró, 22 07300 Inca
Tel. 971 881710-11
Codi de centre: 07015835
https://iesinca.cat/?page_id=12



DEPARTAMENT DE GEOGRAFIA I HISTÒRIA. PENDENTS 1R

CURS: 2020/21

Dossier de tasques per treballar l'assignatura de Geografia i Història de 1r d'ESO pendent del curs anterior.

És molt important treballar bé totes les qüestions i fer una bona presentació al quadern (net, ordenat...)

Instruccions per a la realització de la tasca:

1. Cal emprar com a material de consulta els apunts de les presentacions i fotocòpies que es treballaren durant el curs.
2. També es pot utilitzar el recurs que suposa internet o les enciclopèdies.
3. És important realitzar les tasques de manera ordenada i regular sense esperar a la darrera setmana.
4. El dossier complet i correctament realitzat, s'ha de lliurar el dia de l'**examen**.
5. Una bona presentació és molt important per facilitar la revisió de les tasques i per valorar l'interès posat en la feina.
6. En aquest dossier només trobaràs els enunciats de les activitats, has de fer els exercicis a un quadern, seguint l'ordre i copiant els enunciats. Quan a l'enunciat hi ha una foto o dibuix l'has de retallar i enganxar al quadern. Les graelles s'han de fer al quadern, les de les fotocòpies són un exemple i no tenen espai suficient per fer-les bé.

Tema 1. Introducció a la Història

1. Com es diu la persona que investiga els fets del passat per conèixer com vivien i pensaven les persones d'altres èpoques?
2. Quines eines s'empren aquestes persones per reconstruir la història? Digueu exemples.
3. Definició d'Història: què és i per a que serveix?
4. **Temps a la Història**

a) Quants d'anys té un segle?

b) Quants d'anys té un mil·lenni?

c) Escribeu en nombres romans:

24	8	9	37	85	138	56	72	361	528
----	---	---	----	----	-----	----	----	-----	-----

d) Dibuixa un eix cronològic amb les edats de la Història i els principals fets que ocorren en cada una d'elles.

Tema 2. La Prehistòria

5. Redacta el vocabulari:

-Jaciment.

-Arqueologia.


-Nòmada.

-Art rupestre.

-Arpó.

-Depredador.


6. Redacta un text explicant el procés d'hominització que representa el dibuix.



7. Confecciona una graella amb la informació més significativa de la prehistòria

Període	Cronologia	Informació
Paleolític		
Neolític		
Edat dels metalls		

8. Observa el dibuix i redacta un text explicant com era la vida quotidiana al paleolític i al neolític. Són dues redaccions.




9. Explica com apareixen les diferències socials entre els membres d'un poblat.

10. Quan es descobreixen els usos dels metalls? Com va passar?

11. Com es treballen els metalls, quin tipus d'objectes fabricaven?

12. Comenta aquests exemples d'art de la prehistòria:



13. Les construccions megalítiques. Fes la graella al quadern.

LES CONSTRUCCIONS MEGALÍTIQUES		
Definició de megalitisme:		
Nom	Dibuix(pots cercar a internet la imatge i aferrar-la al quadern)	Característiques
Menhir		
Alineament		
Dolmen		
Cromlec		
Talaiot		
Taula		
Naveta		

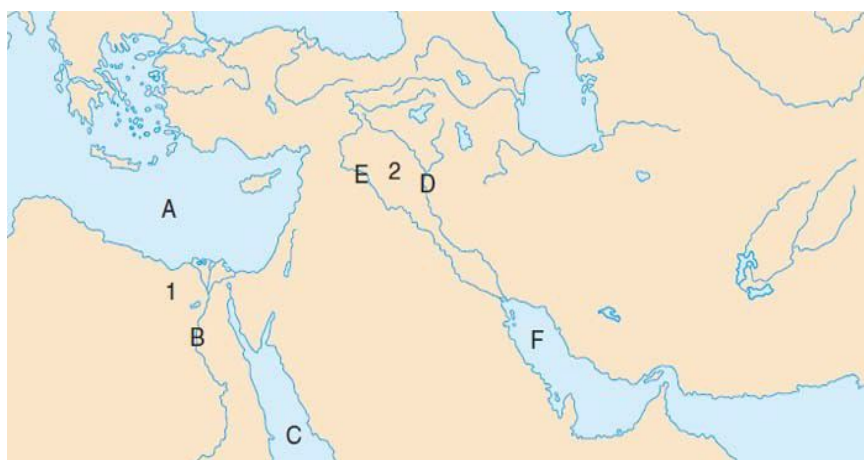
Tema 3. Les civilitzacions fluvials: Egipte i Mesopotàmia

14. Vocabulari.

- Ziggurat.
- Codi de Hammurabi.
- Escriba.
- Piràmide.
- Jeroglífic.
- Faraó.
- Canal de reg.
- Hipogeu.

15. Mapa de les civilitzacions de Mesopotàmia i Egipte:

► Pinta de dos colors diferents l'espai geogràfic de les civilitzacions d'Egipte i Mesopotàmia.



► Posa el nom als mars i als rius.

a) Posa el nom als rius i mars (A, B, C, D, E i F)

b) No oblidis que has de fer una llegenda (color a cada variable que es demana cercar al mapa)

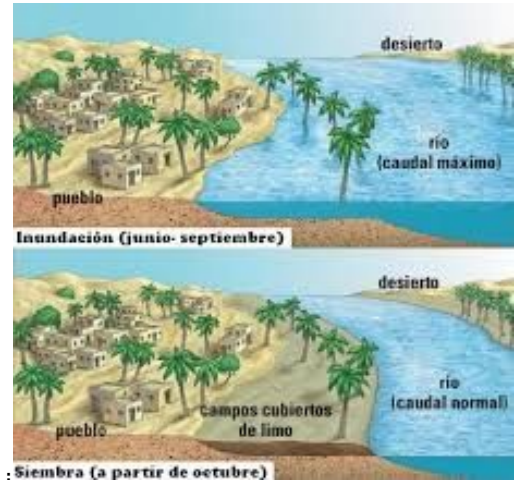
16. Explica com neix l'escriptura, per a que servia, com era.

17. Explica com era la societat de les primeres civilitzacions fluvials. Dibuixa la piràmide social.

18. Observa la imatge. Què són els llims del riu Nil?

Com es formen i dipositen?

Per què eren tan importants per a l'agricultura?



19. Explica com era la religió a Egipte, com eren els seus déus i deesses, com eren els rituals relacionats amb la mort...

20. Identifica les imatges i explica breument alguna característica, ús ...

Tema 4. Les civilitzacions de Grècia i Roma

21. Mira a Youtube els documentals de Grècia i de Roma de les col·leccions:

HISTORIA PARA NIÑOS i REPORTEROS DE LA HISTORIA. Trobaràs un vídeo d'uns 15 minuts o diversos vídeos més curts perquè està dividit per apartats.

22. Vocabulari, defineix:

-Hèlade

-esclau

-temple

-poble bàrbar

-polis

-acròpolis

-aqüeducte

-patrici

-democràcia

-mitologia

-imperi


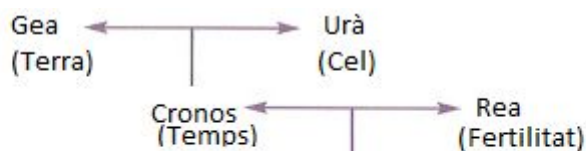
-legió

23. Completa el mapa situant l'espai que ocupa la civilització grega, localitza i posa el nom de les principals polis i les principals colònies.

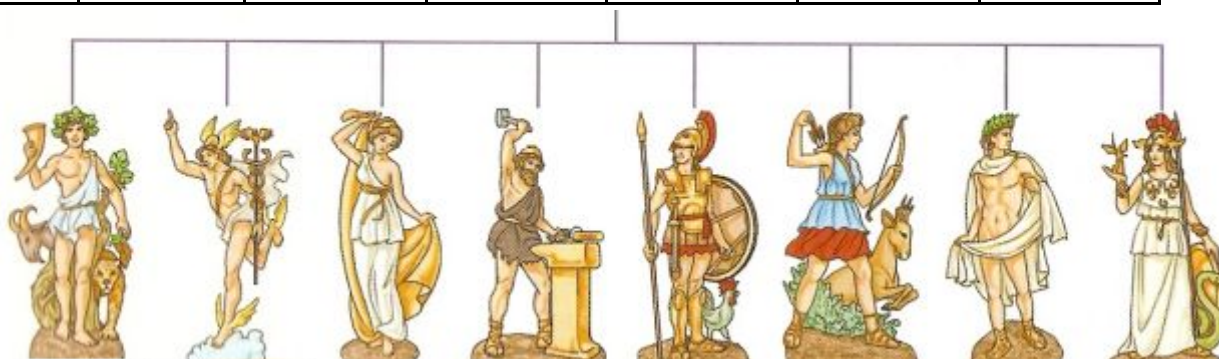


24. La democràcia grega era una democràcia com l'actual? Per què? Raona la resposta i posa algunes diferències.

25. Mitologia clàssica. Roma va adoptar els déus i deesses grecs canviant-los el nom. Observa el dibuix i completa la graella.



Nom Grècia	a					
Nom Roma	a					
Divinitat de...						



26. Societat.

La societat clàssica es caracteritza per ser una societat esclavista. Què significa aquesta afirmació? Raona la resposta.

27. Art clàssic. Aferra les imatges al quadern i identifica- les i explica-les breument.

Exemple:



Grècia. Acròpolis d'Atenes. Zona sagrada de la polis d'Atenes que concentra gran part dels principals temples: Erecteion, Partenó...

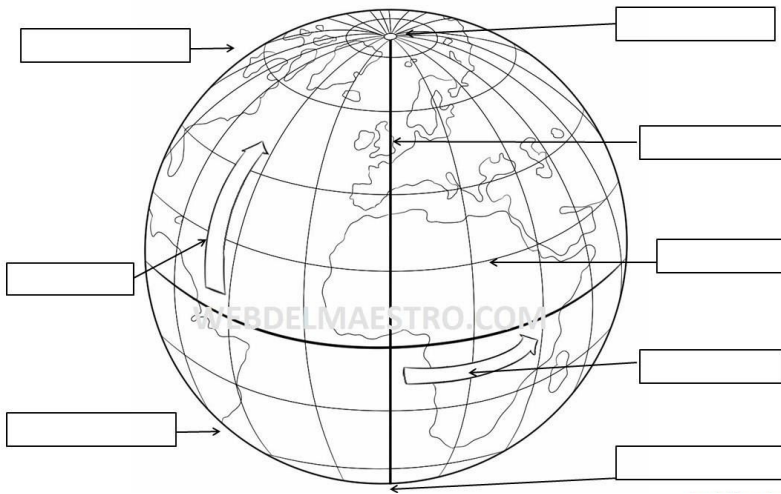


28. Imagina que ets un nin o una nina del temps de les civilitzacions de Grècia o de Roma i fes una redacció contant tot el que fas durant un dia. Recorda que t'has de basar en la informació que tens. Per exemple has de dir que vas al temple a dur flors a la deessa Afrodita o que aniràs en carro a Pompeia (són exemples)

Tema 5. Introducció a la Geografia.

29. Col.loca al dibuix els noms corresponents

-equador/meridià de Greenwich/pol nord/pol sud/latitud/longitud/pol nord/pol sud



Tema 6. La Terra

30. Vocabulari.

Redacta una definició de:

- Geografia.
- Mapa.

- Globus terraqüi.
- Llegenda d'un mapa.

31. Explica quines són les característiques de la Terra que fan possible la vida?

32. Completa:

	Moviment de rotació	Moviment de translació
Descripció		
Durada		
Dóna lloc a...		

Fes un dibuix que representi el moviment de rotació i el moviment de translació.

33. Explica els diferents tipus de mapes. Posa exemples.

34. Què és l'escala d'un mapa i per a què serveix?

Tema 7. El relleu terrestre

35. Vocabulari. Redacta una definició de:

- Serralada.
- Muntanya.
- Illa .

- Altiplà.
- Vall.
- Península

- Cap
- Badia.
- Volcà

36. Com és l'estructura interna de la Terra?

37. Completa i fes un dibuix:

L'escorça terrestre està formada per ...

38. Situa al mapa els oceans, els continents i almenys 4 illes



39. El relleu va canviant amb el temps? Explica com.
Explica quins són els diferents factors d'erosió?

40. Identifica el factor d'erosió i explica com ha actuat.



Gran canó de Colorado



Pedrera de marbre

41. Què és un planisferi físic? Quin tipus d'informació ens proporciona? Quins colors utilitzam?

Tema 7. Les aigües

42. Situa al mapa els rius, llacs, mars i oceans



Al mapes, l'aigua sempre es pinta color

43. Completa:

L'aigua és fonamental per Ocupa del planeta Terra.

L'aigua es divideix en dos grans grups:

A

B

44. Redacta una definició de:

- | | |
|-----------|-----------|
| -Marea. | -Iceberg. |
| -Cabal. | -Llac. |
| -Glacera. | -Riu. |
| -Onades. | -Baikal |

45. Què representa aquest dibuix. A

Situa-hi els següents termes: **desembocadura/ afluent/naixement/embassament/ salt d'aigua/delta/curs alt /curs mig / curs baix**



46. Quina diferència hi ha entre un riu i un torrent? Per què a Mallorca no hi ha rius?

47. Completa el mapa dels principals rius de la península Ibèrica.



48. Què és i com es forma el delta d'un riu? Cerca una imatge de delta a Espanya i aferra-la al quadern.

49. Explica per què és important tenir cura dels aqüífers? Fes un dibuix de com és un aqüífer i les seves parts.

Molta cura amb la tasca , bona cal·ligrafia i ortografia !!!!!!!